


Frontsession teoritest efterår 2010

Notér følgende toner med løse fortegn:

d es ges cis h


Notér samme tone med et andet fortegn:

1a 


Notér følgende skalaer:

Ab dur

G mol

1b 


Bestem følgende fire intervaller:

1c 

Bestem følgende to skalaer:

2a 

Skriv becifringer på følgende akkorder:


2b 

Notér becifringerne med noder:

BbΔ

Ho

Eb7sus

2c 

4-stemmig akkordlægning og stemmeføring. Notér de to manglende stemmer mellem de to angivne:

3 