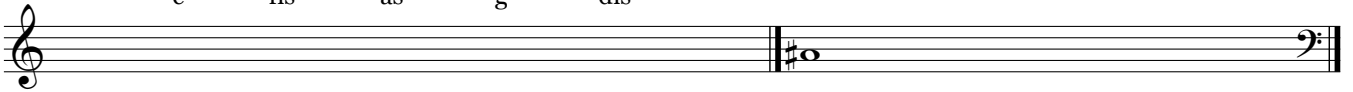


Frontsession teoritest forår 2009

Notér følgende toner med løse fortegn:

c fis as g dis


Notér samme tone med et andet fortegn:

1a 

Notér følgende skalaer:

Ab dur

C mol

1b 

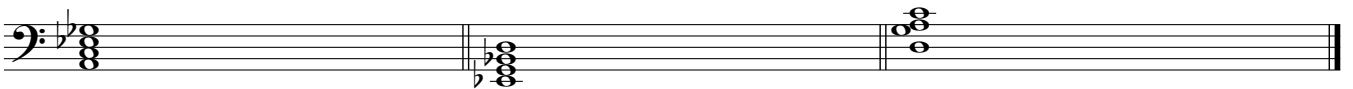
Bestem følgende fire intervaller:

1c 

Bestem følgende to skalaer:

2a 

Skriv becifringer på følgende akkorder:


2b 

Notér becifringerne med noder:

AbΔ

Fø

Cm7

2c 

4-stemmig akkordlægning og stemmeføring. Notér de to manglende stemmer mellem de to angivne:

3 